

سلطنة عمان وزارة التربية

وزارة التربية والتعليم

امتحان صف التاسع

العام الدراسي 1443/1444 هـ - 2021/2022 م

الدور الأول - الفصل الدراسي الأول

- المادة : الدراسات الاجتماعية
- عدد صفحات أسئلة الامتحان (6)
- زمن الإجابة ساعة وصف
- الإجابة في الورقة نفسها

اسم الطالب	
المدرسة	الصف

السؤال	الدرجات		التوقيع بالاسم
	بالأرقام	بالحروف	
1			
2			
3			
4			
5			
المجموع			مراجعة الجمع
المجموع الكلي			جمعه

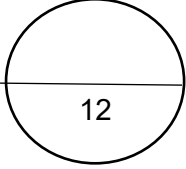
امتحان الصف التاسع

العام الدراسي 1443/1444 هـ 2022/2021 م

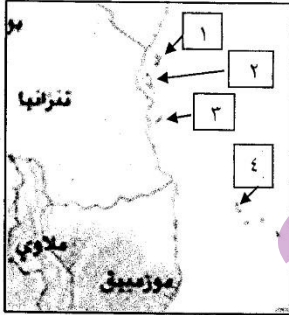
الدور الأول - الفصل الدراسي الأول

المادة - الدراسات الاجتماعية

السؤال الأول :- ضع دائرة حول رمز الإجابة الصحيحة لكل مفردة من المفردات التالية



١. من الدول التي قجمت لها السلطنة مساعدات نتيجة الكوارث الطبيعية
(أ) فلسطين (ب) البوسنة (ج) ايران (د) أفغانستان
٢. سنة الأساس للتعداد العماني في عام 2020 م هي :
(أ) 1993 (ب) 2003 (ج) 2010 (د) 2019
٣. يطلق على زيادة أعداد السكان من سنة لأخرى نتيجة زيادة المواليد وأنخفاض الوفيات والهجرة
(أ) النمو السكاني (ب) الكثافة السكانية (ج) معدل المواليد -د- الزيادة الطبيعية
٤. الشخصية العمانية التي قامت بالرحلة الشهيرة الى ميناء نيويورك على متن السفينة سلطنة عام 1840 م
(أ) السيد حمد بن سليمان البوسعيدي (ب) الشيخ أحمد بن النعمان الكعبي
(ج) الشيخ حسن الفارسي (د) السيد سليمان بن حمد البوسعيدي
٥. الرقم الذي يشير الى موقع الجزيرة التي يوجد بها نهر مويرا في الخريطة التي امامك :

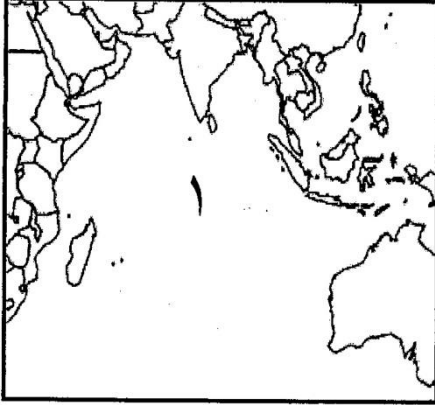


- ١ (أ) 1
٢ (ب) 2
٣ (ت) 3
٤ (د) 4
٦. كانت أولى الهجرات العربية الى شرقي إفريقيا هجرة أولاد الجلندي في القرن الميلادي
(أ) الخامس (ب) السادس (ج) السابع (د) الثامن
٧. يوجد مقر مجمع الفقه الإسلامي في مدينة
(أ) المدينة المنورة (ب) مكة المكرمة (ج) الرياض (د) جدة

امتحان الصف التاسع

العام الدراسي 1443/1444 هـ 2022/2021 م
الدور الأول - الفصل الدراسي الأول
المادة - الدراسات الاجتماعية

٨. المسطح المائي المشار اليه بالرقم (1) في الخريطة التي أمامك



- (أ) المحيط الهندي
(ب) المحيط الهادي
(ج) المحيط الأطلسي
(د) البحر المتوسط

٩. جميع مايلي من المصادر الرئيسية لدراسة خصائص السكان ماعدًا
(أ) سجلات المؤسسات الحكومية
(ب) سجل الأحوال المدنية
(ج) سجلات المدارس
(د) سجلات المؤسسات الأهلية

10. أراد محمد إجراء مسح الخصوبة في مجتمعه، الطريقة الأفضل للحصول على هذه البيانات السكانية

(أ) التعداد (ب) سجلات المدارس (ج) التسجيل الحيوي (د) المسوحات بالعينة

11) القائد البرتغالي الذي أخضع الساحل الشرقي الإفريقي للسيطرة البرتغالية عام 1501م

(أ) فاسكودي جاما (ب) جيمي كرتز (ج) البوكيرك (د) ماجلان

12) تهب الرياح الموسمية على المحيط الهندي والتي مكنت العمانيون للبحار الى ساحل زنجبار

في شهر

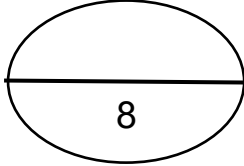
(أ) يونيو (ب) يوليو (ج) أكتوبر (د) نوفمبر

امتحان الصف التاسع

العام الدراسي 1443/1444 هـ - 2022/2021 م
الدور الأول - الفصل الدراسي الأول

المادة - الدراسات الاجتماعية

السؤال الثاني : أجل عن الأسئلة التالية :



أ) 1- عرف ما يلي
أ- المسح بالعينة

ب- الجوار الجغرافي

ب) 1- علل : ترتفع معدلات المواليد في المجتمعات الزراعية ؟

2- صنف مصادر الحصول على البيانات السكانية التي بين القوسين في الجدول التالي
(التعداد السكاني - سجلات المدارس - التسجيل الحيوي - سجل المؤسسات الحكومية والأهلية)

المصادر الأساسية	المصادر الثانوية

ج) 1- تمثل الخريطة المقابلة إحدى دول الوطن العربي

أجب في ضوء المعطيات التالية

المساحة 765 كم مربع

عدد السكان 1493000

أ- تصنف كثافة السكان لهذه الدولة ضمن الكثافات

مرتفعة منخفضة

(أختار الإجابة)

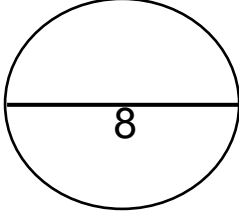
ب- فسر ذلك

امتحان الصف التاسع

العام الدراسي 1443/1444 هـ - 2022/2021 م

الدور الأول - الفصل الدراسي الأول

المادة - الدراسات الاجتماعية



السؤال الثالث: أجب عن الأسئلة التالية

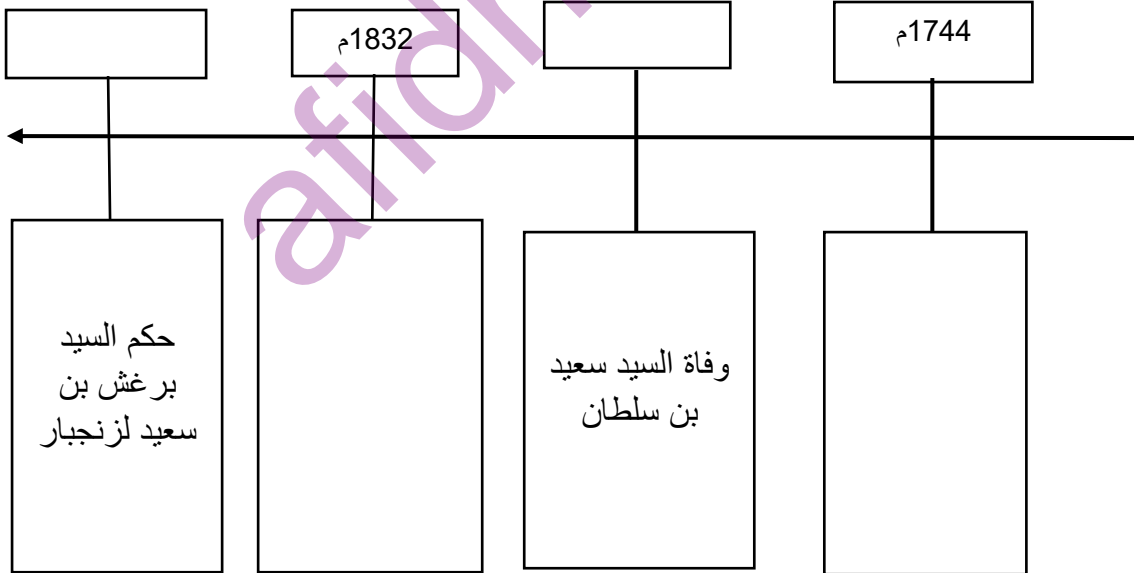
(أ) أذكر سببين لكل من

١- الوفيات حول العالم .

٢- تفوق جزيرة زنجبار على غيرها من المراكز الأخرى في شرقي إفريقيا .

(ب) 1- رتب الأحداث والأعوام التاريخية الموجودة بين القوسين في المسطرة الزمنية التالية

(1856م - تولي أحمد بن سعيد الحكم في عمان - 1870 - جعل السيد سعيد بن سلطان زنجبار عاصمة له



ج- فسر ما يلي :

١- عقدت السلطنة العديد من الاتفاقيات الاقتصادية والتجارية مع الدول الإسلامية .

٢- حصول جلالة السلطان الراحل على جائزة السلام الدولية من قبل عشر جامعات أمريكية عام

1998 م

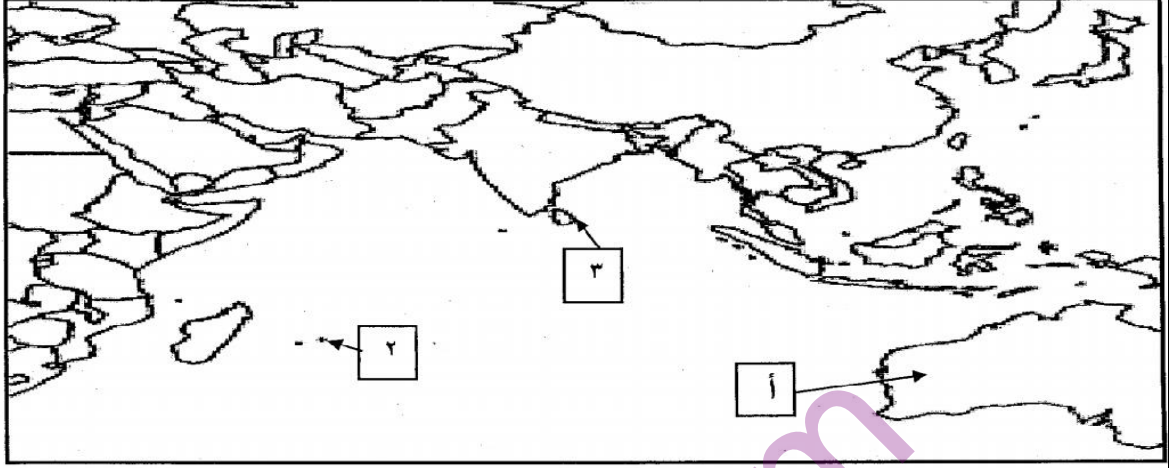
امتحان الصف التاسع

العام الدراسي 1443/1444 هـ 2022/2021 م
الدور الأول - الفصل الدراسي الأول
المادة - الدراسات الاجتماعية

السؤال الرابع :- أجب عن الأسئلة التالية

أ- (1) حدد في الجدول التالي وزارات السلطنة التي تتعاون مع المجالس واللجان التابعة للأمم المتحدة

الوزارات	المجالس واللجان
	مجلس إدارة معهد اليونسكو للإحصاء
	المجلس الدولي الحكومي للبرنامج الدولي لتنمية الاتصال (بدتا)
	لجنة التراث والثقافة
	المجلس الدولي لبرنامج إدارة التحويلات الاجتماعية (موسم)



السؤال الخامس:

- أ- امامك خريطة العالم ادرسها جيدا ثم اجب عن الأسئلة التي تليها
- ١- ضع الرقم (1) على موقع الدولة التي تحتل المرتبة الأولى عالميا من حيث عدد السكان عام 2050م
- ٢- سالم بحار عماني يمتلك سفينة تجارية شراعية خرج من مسقط للتجارة عام 1850م الى جزيرة مدغشقر . ارسم خط سير هذه الرحلة البحرية .
- ٣- رقم الجزيرة التي استورد منها السيد سعيد بن سلطان القرنفل
- ٤- اسم الدولة المشار اليها بالرمز (أ)
- ج- أذكر هدفا واحد لكل من :
- ١- البنك الإسلامي للتنمية .

٢- منظمة الأمم المتحدة للأغذية و الزراعة (الفاو)

أنتهت الأسئلة مع الدعاء للجميع بالتوفيق والنجاح